

(Phiếu ôn tập trong đợt nghỉ phòng chống dịch Covid-19)

A. Khoanh đáp án :

1. Trong số thập phân 905,32 giá trị của chữ số 9 gấp giá trị của chữ số 3 là:

- A. 3 lần B. 30 lần C. 300 lần D. 3000 lần

2. Điền số hoặc tên đơn vị thích hợp vào chỗ chấm:

a. 0,236 hm = m c. 7893 kg = 7 893

b. 25 dam² 4 m² = dam² d. 6,124 m² = 612,4

3. Có 60 bông hoa, trong đó có 12 bông màu hồng, 20 bông màu vàng, 13 bông màu tím và 15 bông màu trắng. Như vậy 25% số bông hoa trong 60 bông hoa trên có màu:

- A. Trắng B. Vàng C. Hồng D. Tím

4. Tìm số trung bình cộng của: 10,61 ; 22,03 ; 7,38 ; và 35,98.

- A. 16 B. 17 C. 18 D. 19

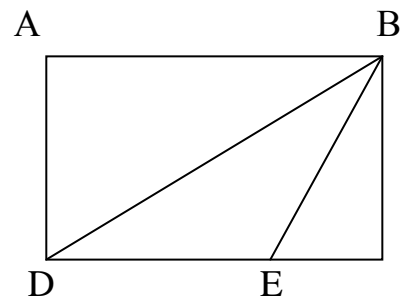
5. Một khu đất có diện tích 240 m². Người ta dành 65% diện tích để trồng hoa và cây cảnh, 25% diện tích để đào ao. Phần còn lại là lối đi. Diện tích lối đi trong khu vườn đó là :

- A. 75 m² B. 24 m² C. 63 m² D. 64 m²

6. ABCD là hình chữ nhật có AB = 15 cm ; AD = 9cm ;

$EC = \frac{1}{3} CD$. Diện tích tam giác DBE là :

- A. 60 cm² B. 20 cm²
C. 45 cm² D. 80 cm²



7. Viết tiếp vào chỗ chấm cho thích hợp:

Đường kính của một bánh xe đạp là 0,65m. Nếu bánh xe lăn trên mặt đất được 300 vòng thì cách xa vị trí ban đầu bao nhiêu mét?

Trả lời: Nếu bánh xe lăn trên mặt đất được 300 vòng thì nó cách xa vị trí ban đầu là

B. PHẦN TỰ LUẬN :

1. Đặt tính rồi tính

a) $49,35 + 218,7$

b) $215,3 - 89,28$

.....

c) $56,28 \times 7,05$

d) $201,06 : 4,5$

.....
.....
.....

2. Tìm x :

$x \times 4,5 = 35,82 + 27,54$

$x \times 6,3 + 3,7 \times x = 100$

.....
.....
.....

3. Một đội công nhân lâm nghiệp đã trồng được 36 ha rừng và đạt 12,5% kế hoạch được giao. Hỏi:

a) Đội công nhân đó được giao nhiệm vụ trồng bao nhiêu héc –ta rừng?

b) Đội công nhân đó còn phải trồng bao nhiêu héc –ta rừng nữa để hoàn thành kế hoạch?

.....
.....
.....
.....
.....
.....

4*. Tìm một số thập phân biết rằng nếu chuyển dấu phẩy của nó sang bên trái một hàng thì được số mới kém số phải tìm 77,58 đơn vị .

.....
.....
.....
.....
.....
.....

(Phiếu ôn tập trong đợt nghỉ phòng chống dịch Covid-19)

A. Khoanh tròn vào chữ cái đặt trước câu trả lời đúng:

1. Số trung bình cộng của $4,2 + 3,5 + 4,7 + 5,2$ là:

- A. 5,4 B. 4,4 C. 6,4 D. 12

2. Chu vi của một hình tròn là $21,98\text{dm}$. Bán kính của hình tròn là:

- A. 7dm B. $4,5\text{dm}$ C. $3,5\text{dm}$ D. 5dm

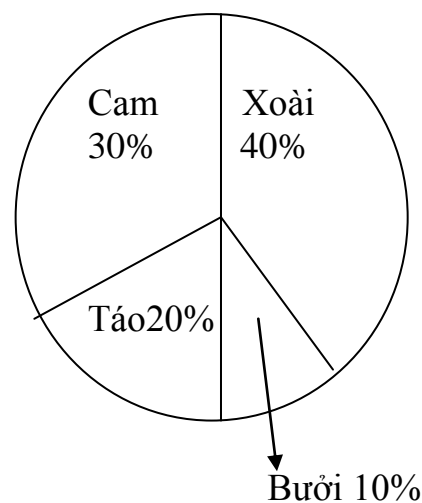
3. Diện tích một hình tròn là $78,5\text{cm}^2$. Bán kính của hình tròn đó là:

- A. 25cm B. 5cm C. 10cm

4. Một khu vườn có 700 cây ăn quả các loại gồm bưởi, cam, táo, xoài. Biểu đồ bên biểu diễn tỉ lệ tương ứng bốn loại cây ăn quả trong khu vườn

Viết số thích hợp vào chỗ chấm:

- a. Có cây bưởi
- b. Có cây cam
- c. Có cây táo
- d. Có cây xoài



5. Điền dấu ($>$, $<$, $=$) vào chỗ trống thích hợp:

$3\text{m}^2 5\text{dm}^2$ $3,5\text{m}^2$ $6\text{dam}^2 5\text{m}^2$ $6,5\text{dam}^2$

$7,0084\text{m}^2$ $700,84\text{dm}^2$ $7\text{m}^2 99\text{cm}^2$ $7,1\text{m}^2$

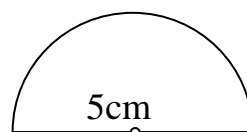
6. Biết 64% của một số là 544. Vậy $\frac{3}{5}$ của số đó là:

- A. 510 B. 520 C. 610 D. 800

7. Hình bên tạo bởi nửa hình tròn đường kính 5cm .

Diện tích của hình đó là :

- A. $98,125\text{cm}^2$
- B. $9,8125\text{cm}^2$
- C. $9812,5\text{cm}^2$
- D. $981,25\text{cm}^2$



Hình H

B. PHẦN TỰ LUẬN :

1. Tính giá trị của biểu thức :

$$(128,4 - 73,2) : 2,4 + 18,32$$

$$56,25 + 91,08 : 3,6 \times 2,3$$

2. Tìm x

$$x : 100 = 9,04 \times 3,58$$

$$98 - x = 255,92 : 5,6$$

3. Một mảnh vườn hình thang có đáy lớn bằng 90m, đáy bé bằng $\frac{3}{5}$ đáy lớn, chiều cao 40m.

Người ta sử dụng 35% diện tích đám vườn để trồng cam. Hỏi có thể trồng được bao nhiêu cây cam? Biết rằng trồng mỗi cây cam cần 6m² đất.

4*. Tính nhanh:

$$20,15 \times 35 + 63 \times 20,15 + 20,15 \times 3 - 20,15$$

Hai viên gạch xấu xí

Đến miền đất mới, các vị sư phải tự xây dựng mọi thứ. Họ mua đất, gạch, mua dụng cụ và bắt tay vào làm việc. Một chú tiểu được giao xây một bức tường gạch. Chú rất tập trung vào công việc, luôn kiểm tra xem viên gạch đã thẳng thớm chưa, hàng gạch có ngay ngắn không. Công việc tiến triển khá chậm vì chú làm rất kỹ lưỡng. Tuy nhiên chú không lấy đó làm phiền lòng bởi vì chú biết mình sắp sửa xây một bức tường tuyệt đẹp đầu tiên trong đời. Cuối cùng, chú cũng hoàn thành công việc vào lúc hoàng hôn buông xuống.

Khi đứng lui ra xa để ngắm nhìn công trình lao động của mình, chú bỗng cảm thấy có gì đó đập vào mắt. Mặc dù chú đã rất cẩn thận khi xây bức tường song vẫn có hai viên gạch bị đặt nghiêng. Và điều tồi tệ nhất là hai viên gạch đó nằm ngay chính giữa bức tường. Chúng như đôi mắt đang trừng trừng nhìn chú. Kể từ đó, mỗi khi du khách đến thăm ngôi chùa, chú tiểu đều dẫn họ đi khắp nơi, trừ đến chỗ bức tường mà chú xây dựng.

Một hôm, có hai nhà sư già đến tham quan ngôi chùa. Chú tiểu đã cố lái họ sang hướng khác nhưng hai người vẫn nằng nặc đòi đến khu vực có bức tường mà chú xây dựng. Một trong hai vị sư khi đứng trước công trình ấy đã tốt lên:

- Ôi, bức tường gạch mới đẹp làm sao!

- Hai vị nói thật chứ? Hai vị không thấy hai viên gạch xấu xí ngay giữa bức tường kia ư? - Chú tiểu ngạc nhiên kêu lên.

- Có chứ, nhưng tôi thấy 998 viên gạch còn lại đã ghép thành một bức tường tuyệt vời ra sao! - Vị sư già từ tốn.

Theo Hạt giống tâm hồn

Khoanh vào chữ cái trước ý trả lời đúng:

1. Chú tiểu đã xây được một bức tường như thế nào?

a. Đẹp hoàn hảo.

b. Còn nhiều chỗ sai sót.

c. Đẹp nhưng có hai viên gạch nằm chính giữa bị đặt nghiêng.

2. Vì sao mỗi khi du khách đến thăm ngôi chùa, chú tiểu đều không dẫn tới chỗ bức tường gạch mà chú xây?

a. Vì ngôi chùa rộng nên không thể đưa du khách đi thăm hết mọi nơi.

b. Vì chú không muốn ai nhìn thấy sự khiếm khuyết của bức tường.

c. Vì trong ngôi chùa còn nhiều chỗ khác đẹp hơn.

3. Vì sao vị sư già vẫn nói rằng bức tường gạch rất đẹp?

a. Vì họ nhìn cả bức tường mà không quan tâm đến khuyết điểm nhỏ nhất.

b. Vì họ không muốn nhìn thấy hai viên gạch bị đặt lệch.

c. Vì họ muốn động viên chú tiểu.

4*. Theo em, khi bản thân hoặc người khác mắc sai lầm, ta có nên chỉ nghĩ về điều đó mà không chú ý tới những điều tốt đẹp khác không? Vì sao?

.....
.....
.....

5. Chọn từ thích hợp trong ngoặc đơn điền vào chỗ chấm:

a) Đến đầu làng, tôi gặp một bà cụ có mái tóc bạc phơ và khuôn mặt thật ngôi bán nước chè.

- b) Bà tôi thường nói: “Nhờ của tổ tiên để lại, gia đình ta được sống an lành lại có chút của ăn của để, các con không được quên ơn.”
- c) Nhà nước đã cố gắng nâng cao nguồn quỹ để phục vụ nhân dân.
- d) Ông bà tôi thường khuyên: “Phải ăn ở hiền lành để để lại nhiều cho con cháu.”
(phúc đức, phúc âm, phúc hậu, phúc lợi)

(Phiếu ôn tập trong đợt nghỉ phòng chống dịch Covid-19)

1. Điền vào chỗ trống để hoàn thành khái niệm .

a. Đại từ là

b. Gạch chân đại từ có trong các câu dưới đây :

*Mình về có nhớ ta chăng Qua đình ngả nón trông đình
Ta về ta nhớ hàm răng mình cười Đình bao nhiêu ngói thương mình bấy nhiêu*

2.Điền dấu câu thích hợp vào phần văn bản sau rồi sửa các lỗi chính tả.

trời âm u mây mưa biển xám xịt nặng nề trời âm âm đông gió biển đục ngầu giận dữ như một con người biết buồn vui biển lúc tẻ nhạt lạnh lùng lúc sôi nổi hả hê lúc dăm chiêu gắt gỏng
(Biển đẹp – Vũ Tú Nam)

.....
.....
.....

3. Đọc đoạn thơ sau :

*Thanh khiết bầu không gian
Thanh khiết lời chim nói
Bao ước mơ mời gọi
Trong tiếng chim thiết tha.
(Nghe lời chim nói – Nguyễn Trọng Hoàn)*

a.Điền các danh từ, động từ và tính từ có trong khổ thơ vào bản sau:

<u>DANH TỪ</u>	<u>ĐỘNG TỪ</u>	<u>TÍNH TỪ</u>
.....
.....
.....

b.Em hiểu thế nào là *thanh khiết*?

.....

4.Hãy sắp xếp các từ dưới đây thành nhóm từ đồng nghĩa .

tấp nập , hái , nhộn nhịp , háo hức , náo nhiệt , ngắt , náo nức , bút , phấp phồng

.....
.....
.....
.....

1. Tìm các cặp quan hệ từ rồi tìm CN , VN trong mỗi vế câu :

a. Nếu việc học tập bị ngừng lại thì nhân loại sẽ chìm đắm trong cảnh ngu dốt , trong sự dã man .

b. Cậu không chỉ cho mình những hạt kê ngon lành này mà cậu còn cho mình một bài học quý về tình bạn .

c. Tuy làng mạc bị tàn phá nhưng mảnh đất quê hương vẫn đủ sức nuôi sống tôi như ngày nào .

d. Mặc dù khuôn mặt của bà tôi đã có nhiều nếp nhăn nhưng khuôn mặt ấy hình như vẫn còn tươi trẻ .

2. Điền cặp quan hệ từ thích hợp vào chỗ trống trong các câu sau và cho biết cặp từ đó biểu thị mối quan hệ nào?

a. mọi người tích cực trồng cây bầu không khí trong lành.

Biểu thị quan hệ

b. nhà xa Lan vẫn đi học đúng giờ.

Biểu thị quan hệ

3. Giải thích từ xuân trong từng câu dưới đây ? Đây là hai từ đồng âm hay từ nhiều nghĩa ?

Mùa *xuân*¹ là tết trồng cây .
Làm cho đất nước càng ngày càng *xuân*² .
(Hồ Chí Minh)

.....
.....
.....

4. Tập làm văn : Viết một đoạn văn ngắn khoảng 5 đến 7 câu tả một đồ vật mà em yêu quý trong đó có sử dụng một câu ghép . Gạch chân dưới câu ghép đó.

(Phiếu ôn tập trong đợt nghỉ phòng chống dịch Covid-19)

Bài học về sự yêu thương

Một con tàu du lịch gặp nạn trên biển, có một đôi vợ chồng rất khó khăn mới lên đến trước mũi thuyền cứu hộ, trên thuyền cứu hộ chỉ còn thừa duy nhất một chỗ ngồi.

Lúc này người đàn ông để vợ mình ở lại, còn bản thân nhảy lên thuyền cứu hộ.

Người phụ nữ đứng trên thuyền sắp chìm hét lên với người đàn ông một câu...

Kể đến đây thầy giáo hỏi học sinh:

- Các em đoán xem người phụ nữ ấy nói câu gì?

Tất cả học sinh phấn nộ nói rằng:

- Em hận anh, em đã nhìn lầm người rồi!

Lúc này, thầy giáo chú ý đến một cậu học sinh mãi vẫn không trả lời, liền hỏi cậu bé.

Cậu học sinh nói:

- Thầy ơi, em nghĩ người phụ nữ sẽ nói: “Nhớ chăm sóc tốt con chúng ta, anh nhé!”

Thầy giáo ngạc nhiên hỏi:

- Em nghe qua câu chuyện này rồi à?

- Dạ chưa ạ! Nhưng mẹ em trước khi mất cũng nói với ba em như vậy.

Thầy giáo xúc động:

- Em trả lời rất đúng!

Người đàn ông được cứu sống đã trở về quê hương, một mình nuôi con gái trưởng thành. Nhiều năm sau anh ta mắc bệnh và qua đời, người con gái lúc sắp xếp kỉ vật, phát hiện cuốn nhật kí của bố. Hóa ra, lúc mẹ và bố ngồi trên chiếc thuyền ấy, người mẹ đã sớm mắc bệnh nan y. Trong giây phút quyết định, người chồng đã giành lấy cơ hội sống duy nhất về phía mình.

Trong cuốn nhật kí viết rằng:

“Anh ước gì anh và em có thể cùng nhau chìm xuống đáy biển nhưng anh không thể. Vì con gái chúng ta, anh chỉ có thể để em một mình ngủ một giấc ngủ dài dưới đáy đại dương sâu thẳm. Anh xin lỗi!”

Thầy giáo kể xong câu chuyện, phòng học lặng như tờ.

Theo Minh Phạm

Khoanh vào chữ cái trước ý trả lời đúng:

1. Khi tàu gặp nạn, thuyền cứu hộ chỉ còn một chỗ, người chồng đã hành động như thế nào?

a. Nhường vợ lên thuyền, còn mình ở lại.

b. Để vợ ở lại, còn mình nhảy lên thuyền.

c. Kéo vợ ở lại cùng nhau chờ chết.

2. Lúc đó người vợ đã nói gì?
- a. Nhớ chăm sóc tốt con chúng ta, anh nhé!
 - b. Em hận anh, em đã nhìn lầm người rồi!
 - c. Sao anh lại để em ở lại một mình?

3. Câu chuyện có điều gì bất ngờ làm thay đổi suy nghĩ của người nghe chuyện?
- a. Bị chồng bỏ lại mà người vợ không hề oán trách.
 - b. Người chồng rất yêu con, không rời xa con nên không muốn chết.
 - c. Người vợ mắc bệnh nan y, người chồng cố giành cơ hội sống để nuôi con.
- 4*. Theo em, các bạn học sinh cảm nhận được điều gì khi nghe hết câu chuyện?

.....

.....

.....

5. Gạch dưới từ không thuộc nhóm trong mỗi dãy từ sau:
- a) Nhóm từ có tiếng **bảo** với nghĩa là “giữ gìn”: bảo vệ, bảo tồn, bảo tàng, bảo kiếm, bảo trợ.
 - b) Nhóm từ có tiếng **sinh** với nghĩa là “sống”: sinh vật, sinh sôi, sinh viên, sinh thái, sinh tồn.

6. Đặt câu đề từ **hay** được sử dụng với các nghĩa sau:
- a) Có nghĩa là “giỏi (thú vị)”:
.....
 - b) Có nghĩa là “biết”:
.....
 - c) Có nghĩa là “thường xuyên”:
.....

7. Tập làm văn : Viết một đoạn văn ngắn khoảng 5 đến 7 câu tả loài cây em yêu thích trong đó có sử dụng một câu ghép . Gạch chân dưới câu ghép đó.