

( Phiếu ôn tập trong đợt nghỉ phòng chống dịch Covid-19)

A. TRẮC NGHIỆM

1.Số thích hợp điền vào chỗ chấm  $0,075 \text{ kg} = \dots\dots\dots\text{g}$  là:

- A. 7,5                                      B. 0,75                                      C. 75                                      D. 750

2.Phân số  $\frac{3}{4}$  viết dưới dạng số thập phân là:

- A. 0,34                                      B. 0,75                                      C. 7,5                                      D. 3,4

3. Chữ số 2 trong số thập phân 196,724 có giá trị là:

- A.  $\frac{2}{10}$                                       B.  $\frac{2}{100}$                                       C.  $\frac{2}{1000}$                                       D. 2

4. 25% của 80 cm là:

- A. 20 cm                                      B. 70 cm                                      C. 8 cm                                      D. 0,8cm

5.Số thích hợp điền vào chỗ chấm  $0,78 \text{ km} = \dots\dots\dots\text{m}$  là:

- A. 7,8                                      B. 0,78                                      C. 78                                      D. 780

6. Một hình thang có trung bình cộng hai đáy là 9,5m và chiều cao là 6,8m thì diện tích hình thang đó là :

- A.  $32\text{m}^2$                                       B.  $323\text{m}^2$                                       C.  $646\text{m}^2$                                       D.  $64,6\text{m}^2$

7.Biết 60% số học sinh của một trường tiểu học là 810 em . Hỏi số học sinh của trường đó là bao nhiêu em ?

- A. 1200em                      B. 1350 em                      C. 1450 em                      D. 1500 em .

8. Giá trị của biểu thức:  $2010 - 106,5 : 2,5 + 2,5$  là:

- A. 763,9                      B. 1969,9                      C. 1964,5                      D. 1988,7

9.Một hình tròn có đường kính là 1,2m thì diện tích của hình tròn đó là:

- A.  $1,1304\text{m}^2$                       B.  $11,304\text{m}^2$                       C.  $4,5216\text{m}^2$                       D.  $45,216\text{m}^2$

10.Biết 25% của số A bằng 450 . Vậy  $A = \dots\dots\dots$

11.Tìm một số biết 12% của số đó bằng 43,2. Vậy số đó là .....

12.Một thư viện đầu năm có 3000 quyển sách . Cứ sau mỗi năm số sách của thư viện lại tăng 5% so với số sách của năm trước . Hỏi sau 1 năm , số sách của thư viện là bao nhiêu quyển ?

- A. 3150 quyển                      B. 3200 quyển                      C. 3420 quyển                      D.1500 quyển

## B. PHẦN TỰ LUẬN

### 1. Đặt tính rồi tính

$234,78 + 79$

$45,3 - 19,348$

$0,72 \times 4,5$

$18,228 : 0,49$

.....

.....

.....

.....

.....

.....

.....

### 2. Tìm y :

$y \times 4,7 = 30 - 12,14$

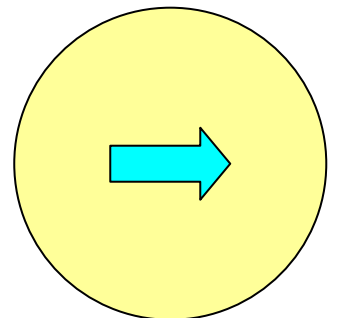
$197,4 - y = 41,83 : 4,7$

.....

.....

.....

3. Một biển báo giao thông có đường kính là 40 cm . Diện tích phần mũ tên trên biển chiếm 20% diện tích biển báo . Tính diện tích phần mũ tên.



.....

.....

.....

.....

.....

.....

.....

.....

.....

(Phiếu ôn tập trong đợt nghỉ phòng chống dịch Covid-19)

A. TRẮC NGHIỆM

1. Viết thành tỉ số phần trăm .

1,2 = .....

1,45 = .....

0,45 = .....

0,75 = .....

2. Chu vi của hình tròn có đường kính 3,6 dm là:

- A. 11,304 dm      B. 11,34 dm      C. 113,04 dm      D. 22,608 dm

3. Chu vi của hình tròn có bán kính 0,6 dm là:

- A. 3,768 dm      B. 37,68dm      C. 376,8 dm      D. 188,4 dm

4. Tính diện tích hình tròn biết chu vi hình tròn là 50,24cm.

- A. 2,0096 cm<sup>2</sup>      B. 20,096 cm<sup>2</sup>      C. 200,96 cm<sup>2</sup>      D. 2009,6 cm<sup>2</sup>

5. Chuyển thành hỗn số có chứa phân số thập phân.

12,7 = .....

31,03 = .....

8,5 = .....

1,069 = .....

6. Cho biết:  $18,987 = 18 + 0,9 + \dots + 0,007$ . Số thích hợp để điền vào chỗ chấm là:

- A. 8      B. 0,8      C. 0,08      D. 0,008

7. Biết 35% của một số là 49, số đó là:

- A. 140      B. 1,4      C. 14      D. 1400

8. Số lớn nhất trong các số 4,079; 4,057; 4,061 và 4,08 là:

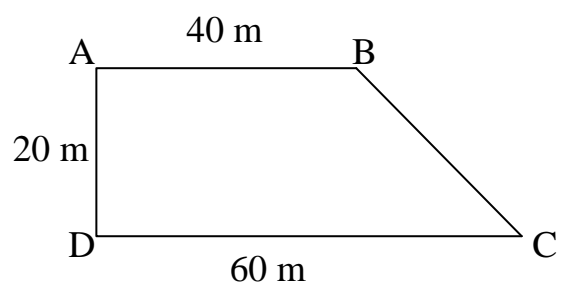
- A. 4,079      B. 4,057      C. 4,061      D. 4,08

9. Tỉ số phần trăm của 5,53 và 15,8 là ...

- A. 35,8%      B. 3,58%      C. 35%      D. 0,35%

10. Một mảnh vườn hình thang người ta sử dụng 45% diện tích để trồng ngô. Tính diện tích phần còn lại?

- A. 45m<sup>2</sup>      C. 450m<sup>2</sup>  
 B. 55 m<sup>2</sup>      D. 550m<sup>2</sup>



## B. PHẦN TỰ LUẬN

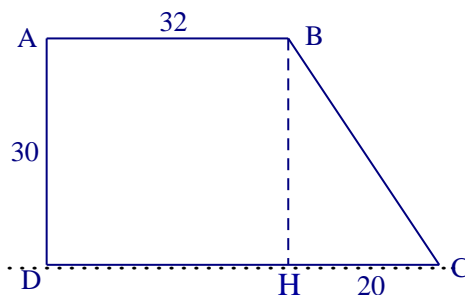
1. Tính giá trị biểu thức :

$$194,78 - 1,026 : 1,8 \times 3,4$$

$$40,56 : 0,39 + 2,45 \times 7,8$$

2. Trong vườn nhà bác An có 625 cây ăn quả gồm hai loại cam và chanh , trong đó số cây cam chiếm 48% tổng số cây trong vườn . Hỏi mỗi loại có bao nhiêu cây ?

3. Cho hình thang vuông ABCD ( vuông ở A và D) có cạnh đáy bé là AB và cạnh đáy lớn là CD. Từ B hạ đường cao BH vuông góc với cạnh đáy lớn CD. Tính diện tích hình thang vuông ABCD biết  $AB = 32\text{m}$ ;  $AD = 30\text{m}$ ;  $HC = 20\text{cm}$  .



( Phiếu ôn tập trong đợt nghỉ phòng chống dịch Covid-19)

**A. TRẮC NGHIỆM**

1. Một nông trường đặt kế hoạch đạt năng suất lúa 8,2 tấn/ha . Thực tế mỗi ha ruộng nông trường đã thu hoạch được 9,02 tấn . Hỏi nông trường vượt mức bao nhiêu phần trăm kế hoạch ?

- A.20%                      B.10%                      C.15%                      D.25%

2. Trung bình cộng của hai số bằng 8,5; trong đó số lớn hơn số bé là 1,4 đơn vị. Tìm hai số đó  
Số bé là ..... Số lớn là .....

3. Một miếng bìa hình thoi có độ dài đường chéo là 30dm và 68dm. Người ta cắt miếng bìa thành hai hình tam giác giống hệt nhau. Vậy diện tích một hình tam giác là:

- A. 510dm<sup>2</sup>                      B. 1020dm<sup>2</sup>                      C. 255dm<sup>2</sup>                      D. 1100dm<sup>2</sup>

4. Một người mua một cái áo với giá 300 000 đồng. Bán cái áo đó với giá 360 000 đồng. Hỏi người đó được lãi được bao nhiêu phần trăm so với vốn?

- A.10%                      B.20%                      C.30%                      D.40%

5. Một quyển sách ghi giá bìa là 76 000 đồng. Cửa hàng sách giảm 15 % giá trên bìa. Hỏi người mua quyển sách đó phải trả bao nhiêu tiền?

- A. 54000 đồng                      B.64000 đồng                      C.64500 đồng                      D.64600 đồng

6. Một tam giác hình vuông có diện tích bằng  $\frac{1}{40}$  cm<sup>2</sup> và một cạnh góc vuông bằng  $\frac{1}{8}$  cm. Tính cạnh góc vuông còn lại?

- A.  $\frac{2}{5}$  cm                      B.  $\frac{1}{5}$  cm                      C.  $\frac{3}{5}$  cm                      D.  $\frac{4}{5}$  cm

7. Một xưởng may, theo kế hoạch năm 2018 phải may 26125 chiếc áo, nhưng xưởng đã may được 26543 chiếc áo. Vậy xưởng may đã may vượt bao nhiêu phần trăm so với kế hoạch ?

- A.0,016%                      B.0,16%                      C.1,6%                      D.16%

8. Giá trị của biểu thức  $25,8 - a \times 1,06$  với  $a = 0,75$  là : .....

9. Một thửa ruộng hình tam giác có diện tích là 750 m<sup>2</sup> và cạnh đáy là 40 m . Tính chiều cao của thửa ruộng ?

- A.12,5 m                      B. 62,5 m                      C. 37,5m                      D. 18,75m

10. Có 60 bông hoa, trong đó có 12 bông màu hồng, 20 bông màu vàng, 13 bông màu tím và 15 bông màu trắng. Như vậy 25% số bông hoa trong 60 bông hoa trên có màu:

- A. Trắng                      B. Vàng                      C. Hồng                      D. Tím

6. Tính diện tích một mảnh đất, biết 33,5% diện tích mảnh đất đó bằng 281,4 m<sup>2</sup>.

Diện tích mảnh đất đó là .....

## B. PHẦN TỰ LUẬN

1. Đặt tính rồi tính :

$123 + 397,78$

$87,3 - 56,721$

$3,48 \times 2,5$

$55,8 : 0,45$

.....

.....

.....

.....

.....

.....

2. Tính :

$256 - 4,44 : 1,2 \times 0,9$

$9,28 + 9,28 \times 8 + 9,28$

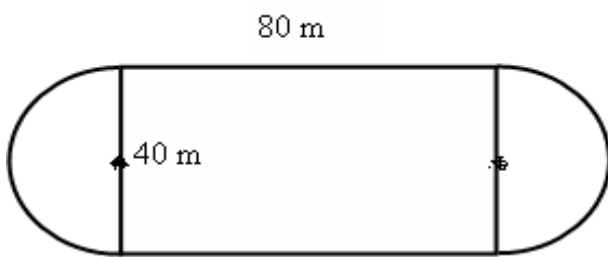
.....

.....

.....

.....

3. Tính diện tích mảnh đất biết chiều dài hình chữ nhật là 80m và chiều rộng hình chữ nhật là 40m.



.....

.....

.....

.....

.....

(Phiếu ôn tập trong đợt nghỉ phòng chống dịch Covid-19)

## Trái tim mang nhiều thương tích

Một buổi chiều trong công viên, có một chàng trai đang chăm chú vẽ một trái tim. Trên khung giấy trắng dần dần hiện ra một trái tim thật đẹp, thật hoàn hảo khiến mọi người đứng xem đều trầm trồ khen ngợi.

Bỗng một ông lão đi đến. Ông trầm tư ngắm nghía bức tranh của chàng trai một hồi lâu, rồi lặng lẽ mượn bút vẽ một hình thoạt nhìn rất lạ, nhìn thật kĩ mới nhận ra đó là hình một trái tim...

Chàng trai ngạc nhiên nhìn trái tim ông lão vừa vẽ, nó bị chấp vá chằng chịt, nhưng rõ ràng vẫn là một trái tim. Trên trái tim ấy, có chỗ như bị khuyết lõm, có chỗ như bị cắt đi và được ghép nối bởi những mảnh khác nhau. Mọi người bắt đầu bàn tán và tỏ ý không hiểu ý nghĩa hình vẽ trái tim của ông lão.

Chàng trai thắc mắc: - Cụ ơi! Cháu không hiểu vì sao cụ lại vẽ trái tim như vậy? Làm sao trái tim lại mang nhiều vết sẹo và ráp nối như thế?

Ông cụ mỉm cười rồi nói: - Đúng! Trái tim của tôi có thể không hoàn hảo, nhưng nó là một trái tim thực sự. Đây chỉ là do trái tim này đã có thời gian sống và trải nghiệm nhiều hơn trái tim của cậu. Hãy nhìn những dấu vết này! Tuy nó có nhiều thương tích nhưng tôi luôn tự hào về nó. Cậu biết không, khi tôi trao một mảnh tim của mình cho một người thân, cha mẹ, anh chị, bạn bè và cả những người tình cờ mà tôi gặp được... thì ngược lại, họ cũng trao cho tôi một mảnh tim của họ để đắp vào chỗ trống ấy.

Ông lão nói tiếp: - Còn những vết lõm này là phần trái tim tôi trao đi mà chưa được nhận lại. Cậu biết đấy, tình yêu trao đi mà chẳng cần đến sự đền đáp. Dù những khoảng trống này nhiều lúc làm tôi đau đớn, nhưng cũng chính nhờ chúng mà tôi có động lực để khao khát được sống, và có niềm tin vào một ngày mai tốt đẹp hơn.

Đám đông im lặng, còn chàng trai không giấu được nỗi xúc động đang trào dâng trong lòng.

*Theo Hạt giống của tâm hồn*

Câu 1: Vì sao chàng trai ngạc nhiên trước bức tranh trái tim ông lão vẽ ?

- A, Vì trái tim ông lão vẽ rất đẹp
- B, Vì trái tim ông lão vẽ có nhiều vết chằng chịt và những vết lõm
- C, Vì trái tim ông lão vẽ khiến nhiều người xúc động

Câu 2: Những mảnh chấp vá trên trái tim ông lão vẽ có ý nghĩa gì ?

- A, Đó là tình yêu thương của ông lão trao cho và nhận được từ mọi người
- B, Đó là những nỗi đau mà ông lão trải qua trong cuộc sống
- C, Đó là những đường nét sáng tạo của ông lão trên bức tranh

Câu 3: Những vết lõm trên trái tim ông lão vẽ có ý nghĩa gì ?

- A, Đó là những tổn thương mà ông lão chịu đựng trong cuộc sống

- B, Đó là những khó khăn chông gai mà ông lão đã trải qua
- C, Đó là những phần trái tim của ông lão trao đi mà chưa được nhận lại

Câu 4: Đặt mình vào vai chàng trai, sau khi nghe ông lão giải thích về trái tim mình vẽ , em cảm thấy thế nào và sẽ làm gì ?

.....

.....

.....

Câu 5: Dùng đại từ để thay thế những từ bị lặp lại trong đoạn văn sau:  
Bác Hồ là vị lãnh tụ vô cùng kính yêu của dân tộc . Từ em nhỏ đến cụ già đều coi Bác Hồ là người Bác , người Cha của mình. Tuy Bác Hồ đã đi xa nhưng nhân dân luôn nhớ về Bác Hồ với những tình cảm không bao giờ phai.

.....

.....

.....

Câu 6: Viết lại một câu ghép có trong bài rồi xác định chủ ngữ , vị ngữ trong mỗi vế câu ghép đó.

.....

.....

Câu 7: Gạch chân quan hệ từ có trong các câu sau :

Tuy có nhiều thương tích nhưng tôi luôn tự hào về nó. Cậu biết không, khi tôi trao một mảnh tim của mình cho một người thân, cha mẹ, anh chị, bạn bè và cả những người tình cờ mà tôi gặp được... thì ngược lại, họ cũng trao cho tôi một mảnh tim của họ để đắp vào chỗ trống ấy.

### TẬP LÀM VĂN

Tả cơn mưa rào ( Các con viết vở)



( Phiếu ôn tập trong đợt nghỉ phòng chống dịch Covid-19)

### CHO VÀ NHẬN

Một cô giáo đã giúp tôi hiểu rõ ý nghĩa phức tạp của việc cho và nhận.

Khi nhìn thấy tôi cầm cuốn sách trong giờ tập đọc, cô đã nhận thấy có gì không bình thường, cô liền thu xếp cho tôi đi khám mắt. Cô không đưa tôi đến bệnh viện, mà dẫn tôi tới bác sĩ nhãn khoa riêng của cô. Ít hôm sau, như với một người bạn, cô đưa cho tôi một cặp kính.

- Em không thể nhận được ! Em không có tiền trả đâu thưa cô! Tôi nói, cảm thấy ngượng ngùng vì nhà mình nghèo.

Thấy vậy, cô liền kể cho tôi nghe một câu chuyện. Chuyện rằng: “ Hồi cô còn nhỏ, một người hàng xóm đã mua kính cho cô. Bà ấy bảo, một ngày kia cô sẽ trả cho cặp kính đó bằng cách tặng kính cho một cô bé khác. Em thấy chưa, cặp kính này đã được trả tiền từ trước khi em ra đời” . Thế rồi cô nói với tôi những lời nòng hậu nhất, mà chưa ai khác từng nói với tôi: “ Một ngày nào đó, em sẽ mua kính cho một cô bé khác.”

Cô nhìn tôi như một người cho. Cô làm cho tôi thành người có trách nhiệm. Cô tin tôi có thể có một cái gì đó để trao cho người khác. Cô chấp nhận tôi như thành viên của cùng một thế giới mà cô đang sống . Tôi bước ra khỏi phòng, tay giữ chặt kính trong tay, không phải như kẻ vừa được nhận một món quà, mà như người chuyển tiếp món quà đó cho người khác với tâm lòng tận tụy.

( Xuân Lương)

#### **Khoanh tròn vào đáp án trước câu trả lời đúng:**

1. Vì sao cô giáo lại dẫn học sinh đi khám mắt?
  - a. Vì bạn ấy bị đau mắt.
  - b. Vì cô ấy thấy bạn cầm sách đọc một cách không bình thường.
  - c. Cả hai ý trên.
  
2. Việc làm đó chứng tỏ cô giáo là người như thế nào ?
  - a.. Cô là người rất quan tâm đến học sinh.
  - b. Cô rất giỏi về y học.
  - c. Cả hai ý trên.
  
3. Cô giáo đã làm gì để bạn học sinh vui vẻ nhận kính ?
  - a.Cô nói rằng đó là cặp kính rất rẻ tiền , không đáng là bao nên bạn không phải bận tâm.
  - b. Nói rằng có ai đó cô nhờ mua tặng cho bạn.
  - c. Kể cho bạn nghe một câu chuyện để bạn hiểu rằng bạn không phải là người được nhận quà mà chỉ là người chuyển tiếp món quà cho người khác.
  
4. Việc cô giáo thuyết phục bạn học sinh nhận kính của mình cho thấy cô là người như thế nào ?
  - a. Cô là người thường dùng phần thưởng để khuyến khích học sinh.

- b. Cô là người hiểu rất rõ ý nghĩa của việc cho và nhận và là người luôn sống ví người khác.
- c. Cô là người rất cương quyết.

5. Câu chuyện muốn nói với em điều gì ?

- a. Cần thường xuyên tặng quà cho người khác để thể hiện sự quan tâm.
- b. Sống không chỉ biết nhận mà phải biết cho.
- c. Cần sẵn sàng nhận quà tặng của người khác.

6. Từ nào sau đây trái nghĩa với từ phức tạp?

- a. đơn giản                      b. đơn sơ                      c. đơn cử

7. Tìm các từ nối trong các câu sau:

*Tôi bước ra khỏi phòng, tay giữ chặt kính trong tay, không phải như kẻ vừa được nhận một món quà, mà như người chuyển tiếp món quà đó cho người khác với tấm lòng tận tụy.*

8. Trạng ngữ trong câu sau chỉ gì ?

*Ít hôm sau, như với một người bạn, cô đưa cho tôi một cặp kính.*

- a. Chỉ thời gian và sự so sánh.
- b. Chỉ thời gian và phương tiện.
- c. Chỉ thời gian và nguyên nhân.

9. Câu nào sau đây là câu ghép ?

- a. *Một cô giáo đã giúp tôi hiểu rõ ý nghĩa phức tạp của việc cho và nhận.*
- b. *Khi nhìn thấy tôi cầm cuốn sách trong giờ tập đọc, cô đã nhận thấy có gì không bình thường, cô liền thu xếp cho tôi đi khám mắt.*
- c. *Thấy vậy, cô liền kể cho tôi nghe một câu chuyện.*

10. Dấu gạch ngang trong câu sau có tác dụng gì ?

- a. Đánh dấu những ý liệt kê.
- b. Đánh dấu bộ phận giải thích.
- c. Đánh dấu những từ đứng sau nó là lời nói trực tiếp của nhân vật.

11. Câu sau đây thuộc loại câu gì ?

Cô làm cho tôi trở thành người có trách nhiệm.

- a. Câu kể Ai làm gì ?
- b. Câu kể Ai là gì ?
- c. Câu kể Ai thế nào ?

Luyện thêm:

Viết một bức thư ngắn cho một người bạn thân từ 8 đến 10 câu kể về việc phòng chống bệnh Covid-19 của em trong kì nghỉ hiện nay .

( Phiếu ôn tập trong đợt nghỉ phòng chống dịch Covid-19)

### RAU KHÚC

Sau Tết Nguyên đán, dù trời còn lạnh, sương xuống nhiều nhưng cũng bắt đầu của những trận mưa xuân, thế nào cũng phải rủ nhau đi hái rau khúc. Khúc mọc nhiều nhất ở những chân ruộng mạ bỏ rơm, dọc theo bờ sông ...Khúc có hai loại: khúc tẻ và khúc nếp. Chúng chỉ khác nhau ở chỗ, khúc nếp mập hơn, lá to bản hơn, nhiều lông hơn. Mùa rau khúc kéo dài nhưng thời gian có rau ngon lại ngắn. Khi đó mặt ruộng lấp ló màu trắng bạc.

Rau khúc vừa dai lại vừa dẻo. Khúc nếp đưa lên miệng chẳng khác nào kẹo cao su bây giờ. Rau khúc hái từ ruộng về phải chế biến ngay. Món trừ danh nhất, quái lạ nhất từ rau khúc là bánh khúc. Như bất cứ món bánh dân dã nào, nguyên liệu làm bánh khúc chỉ gồm: bột gạo, đỗ xanh, thịt lợn cùng với gia vị. Nó khác với tất cả các loại bánh khác chính là có thêm rau khúc. Rau khúc giã nhuyễn với bột gạo làm vỏ bánh, màu xanh nhạt, dẻo, dai...

Vào mùa bánh khúc nhà nào cũng như có cỗ đám. Người đốt lò, người xay bột, người giã khúc... Tiếng thềm thành to nhỏ, thanh trầm, trong đục... rộn rã khắp làng. Người ta mời đổi nhau để thưởng thức tài nghệ của nhau.

Cho đến bây giờ tôi vẫn giữ y nguyên trong kí ức, cái háo hức, cái sống động của những đêm làng giã khúc. Hồi hộp và mong mỏi nhất là lúc mẻ bánh đầu tỏa hương thơm như khứa vào con tì, con vị. Chỗ bánh hơi nóng bốc ngùn ngụt. Ấy thế mà những bàn tay lạnh nghề vẫn thoăn thoắt đưa từng lượt bánh ra ngoài. Mỗi chiếc bánh được đánh bởi những hạt xôi nếp căng mọng. Thôi thì xuyt xoa, thôi nóng phù phù, xoa tay lên tai... nhưng nhất định phải đưa được bánh ra khi còn nóng hôi hổi. Phải vừa ăn vừa thổi mới cảm nhận được hết hương vị và cảm giác lạ lùng từ cây rau khúc.

Bạn có thể lấy làm khó hiểu trước sự gắn bó bền chặt của người nông dân với cuộc sống quá đơn sơ của họ. Còn tôi thì không. Bởi vì ngay giờ đây tôi vẫn có thể sống lại cái cảm giác hạnh phúc tuyệt vời khi buổi sáng nào đó tỉnh dậy đã thấy mẹ đặt sẵn phần một đĩa bánh khúc – thứ bánh mà giờ đây đối với tôi thực sự chỉ còn lại trong nỗi hoài niệm.

( Tạ Duy Anh)

Khoanh tròn vào chữ cái trước câu trả lời đúng:

1. Rau khúc thường có vào thời gian nào ?
  - a. Tết Nguyên đán.
  - b. Sau Tết Nguyên đán.
  - c. Vào mùa đông.
2. Nguyên liệu làm bánh khúc gồm những gì ?
  - a. Bột gạo, đỗ xanh, thịt lợn cùng với gia vị, gạo nếp.
  - b. Bột gạo, lá chuối, đỗ xanh cùng gia vị, gạo nếp.
  - c. Bột gạo, đỗ xanh, thịt lợn cùng gia vị, rau khúc, gạo nếp.
3. Dấu hiệu nào cho biết mùa bánh khúc đã bắt đầu ?
  - a. Tiếng chày giã khúc thềm thành, thanh trầm, trong đục...rộn rã khắp làng.
  - b. Mặt ruộng lấp ló màu trắng bạc của rau khúc.
  - c. Mẻ bánh đầu tỏa hương thơm như khứa vào con tì, con vị.

4. Trong bài văn này, tác giả tập trung viết về điều gì ?

a. Tả cây rau khúc.

b. Tả chiếc bánh khúc gắn với những kỉ niệm thân thương của một thời làm bánh khúc ở làng quê mình.

c. Hướng dẫn cách làm bánh khúc.

5. Vì sao tác giả lại yêu cây rau khúc?

a. Vì rau khúc là một loại cây có vẻ đẹp đặc biệt.

b. Vì rau khúc làm nên bánh khúc – một loại bánh ngon gắn với những kỉ niệm thân thương của quê hương, của những người thân yêu của tác giả.

c. Vì rau khúc có rất nhiều công dụng.

6. Trong các câu sau, câu nào là câu ghép ?

a. Rau khúc vừa dẻo, vừa dai.

b. Mùa rau khúc kéo dài nhưng thời gian có rau ngon lại ngắn.

c. Rau khúc hái từ ruộng về phải chế biến ngay.

7. Dấu gạch ngang trong câu “ Bởi vì ngay giờ đây tôi vẫn có thể sống lại cái cảm giác hạnh phúc tuyệt vời khi buổi sáng nào đó tỉnh dậy đã thấy mẹ đặt sẵn phần một đĩa bánh khúc – thứ bánh mà giờ đây đối với tôi thực sự chỉ còn lại trong nỗi hoài niệm.” có tác dụng gì ?

a. Đánh dấu chỗ bắt đầu lời nói của nhân vật trong đối thoại.

b. Đánh dấu phần chú thích trong câu.

c. Đánh dấu các ý trong một đoạn liệt kê.

8. Viết lại một câu ghép có trong bài rồi xác định chủ ngữ , vị ngữ trong mỗi vế câu ghép đó .

.....  
.....

9. Tìm danh từ , động từ , tính từ trong hai câu sau :

Chỗ bánh hơi nóng bốc ngùn ngụt. Ấy thế mà những bàn tay lạnh ngắt vẫn thoăn thoắt đưa từng lượt bánh ra ngoài.

10. Ghi lại các từ láy có trong bài.

.....  
.....

Luyện thêm

Tả người thân đang làm việc ( Các con làm ra vở)