

(Phiếu ôn tập trong đợt nghỉ phòng chống dịch Covid-19)

A. KHOANH ĐÁP ÁN :

1. Số thập phân có mười lăm đơn vị, bảy phần trăm viết là:

- A. 15,7
- B. 15,07
- C. 15,007
- D. 10,07

2. Chữ số 7 trong số thập phân 2,715 có giá trị là:

- A. 7
- B. $\frac{7}{10}$
- C. $\frac{7}{100}$
- D. $\frac{7}{1000}$

3. Viết $5 \frac{9}{100}$ dưới dạng số thập phân là:

- A. 0,59
- B. 5,9
- C. 5,09
- D. 5,009

4. Dãy số thập phân nào dưới đây được viết theo thứ tự từ bé đến lớn?

- A. 13,097; 13,079; 13,907; 13,709
- B. 13,079; 13,907; 13,709; 13,097
- C. 13,079; 13,097; 13,709; 13,907
- D. 13,079; 13,907; 13,097; 13,709

5. Viết phép tính vào chỗ chấm:

Tính 14% của 35kg :.....

Tính 12,5% % của 4500000 đồng :.....

Biết 12% của số đó là 93,6. Vậy số đó là:.....

Biết 45% của số đó là 15,3. Vậy số đó là:.....

6.Đúng ghi Đ, sai ghi S vào chỗ chấm:

$4,5 \text{ km}^2 < 45 \text{ hm}^2$ $5 \frac{1}{7} \text{ kg} = \frac{51}{7} \text{ kg}$

$4,5 \text{ km}^2 = 450 \text{ hm}^2$ $5 \frac{1}{7} \text{ kg} = \frac{36}{7} \text{ kg}$

$4,87 \text{ ha} = 4870 \text{ m}^2$ $4,87 \text{ ha} = 48700 \text{ m}^2$

7. Biết 25 ô tô như nhau chở được 107 tấn hàng. Hỏi 15 ô tô như thế chở được bao nhiêu tấn hàng?

- A. 6,42 tấn
- B. 64,2 tấn
- C. 62,4 tấn
- D. 60,24 tấn

8.Một hình tam giác có diện tích là $189,54 \text{ cm}^2$ và độ dài một cạnh là 24,3cm. Tính chiều cao ứng với cạnh đó của tam giác.....

9.Tính chu vi hình tròn biết bán kính là $\frac{4}{5} \text{ dm}$

.....

10. Tính diện tích hình tròn biết đường kính là $\frac{3}{5}$ dm

B. PHẦN TỰ LUẬN

1. Đặt tính rồi tính:

$64,92 + 8,75$

$75,5 - 28,37$

$35,8 \times 2,5$

$8,216 : 5,2$

2. Tính giá trị của biểu thức

$22,12 \times 15 + 20,06 : 3,4$

$8,64 : (1,46 + 3,34) + 6,32$

3. Một mảnh đất hình chữ nhật chiều dài 25m , chiều rộng 16m. Người ta đào một cái giếng hình tròn có đường kính là 3m , phần đất còn lại trồng rau. Trung bình mỗi mét vuông thu hoạch được 2kg rau. Hỏi cả mảnh đất thu hoạch được bao nhiêu ki - lô - gam rau ?

4. Một thửa ruộng hình thang có đáy bé là 90m, đáy lớn bằng $\frac{5}{3}$ đáy bé, chiều cao bằng 40% đáy lớn.

a. Tính diện tích thửa ruộng.

b. Tính số thóc thu được trên thửa ruộng, biết rằng cứ trồng 100 m² lúa thì thu được 64,5kg thóc. (các con làm ra vở)

5. Tính nhanh: (các con làm ra vở)

$$3,45 \text{ cm}^2 + 3,45 \text{ cm}^2 \times 7 + 3,45 \text{ cm}^2 + 3,45 \text{ cm}^2$$

$$264,14 : 0,25 : 4$$

$$2,15 \times 23,28 + 2,15 \times 76,72 + 17,85$$

$$198,3 \times 4,6 - 198,5 \times 4,5 + 2020$$

(Phiếu ôn tập trong đợt nghỉ phòng chống dịch Covid-19)

A. KHOANH ĐÁP ÁN :

1.Lớp 5A có 48 học sinh, năm vừa qua số học sinh giỏi chiếm 37,5%. Hỏi lớp có bao nhiêu em đạt học sinh giỏi?

- A. 8 em B. 10 em C.15 em D. 18 em

2.Giá trị của biểu thức $131,2 : 16 + 0,518 \times 100$ là:

- A. 60 B. 8,2 C.51,8 D. 871,8

3.Điền số thích hợp vào chỗ chấm: $0,015 \text{ ha} + 375\text{m}^2 = \dots\dots\text{m}^2$

- A. 395 m² B. 525 m² C.1875m² D. 52,5m²

d. Số bé nhất trong các số: 42,538; 41,935 ; 42,358; 41,859 là:

- A. 42,358 B. 41,935 C. 42,358 D. 41,859

4. Viết vào chỗ chấm:

a. 9,25 đọc là:.....

b. 504,027 đọc là.....

5.Điền dấu $> < =$ vào chỗ chấm:

a. $8,25 : 0,5 \dots\dots\dots 8,25 \times 2$ b. $32,64 : 4,08 \dots\dots\dots 16,32 : 2,04$

c. $2,1 : 0,1 \dots\dots\dots 5,73 \times 2,1 + 4,27 \times 2,1$ d. $27,9 \times 5 \dots\dots\dots 9,3 \times 3 + 5$

6.Một hình tam giác có độ dài đáy là 23,4cm và chiều cao bằng $\frac{2}{3}$ độ dài đáy. Tính diện tích hình tam giác đó.

- A.379,08 cm² B.198,54 cm² C.182,52 cm² D.365,04 cm²

7.Một thửa ruộng hình thang có đáy lớn 42m, đáy nhỏ 36m, chiều cao bằng trung bình cộng hai đáy . Tính diện tích hình thang.

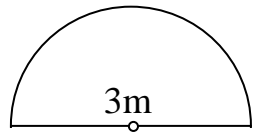
- A.1321 m² B.1421 m² C.1521 m² D.1621 m²

8. Tính diện tích của một bồn hoa có kích thước

như hình vẽ bên: (đường kính = 3m)

- A. 7,065 m² B.70,65 m²

- C.706,5 m² D. 3,5325 m²



Ghi phép tính vào chỗ chấm:

8.Một khu vườn hình tam giác có diện tích là 384 m² , chiều cao 24m . Hỏi cạnh đáy của tam giác đó là bao nhiêu mét ?

.....

9.Một miếng bìa hình thang có diện tích là 507,6 cm² ; đáy lớn 35,6 cm và lớn hơn đáy bé 14,8cm. Tính chiều cao của miếng bìa đó .

.....

.....

B. PHẦN TỰ LUẬN

1. Tính giá trị của biểu thức :

$$(24,52 - 12,17) \times 3,05$$

$$26,55 : 0,75 + 30,25$$

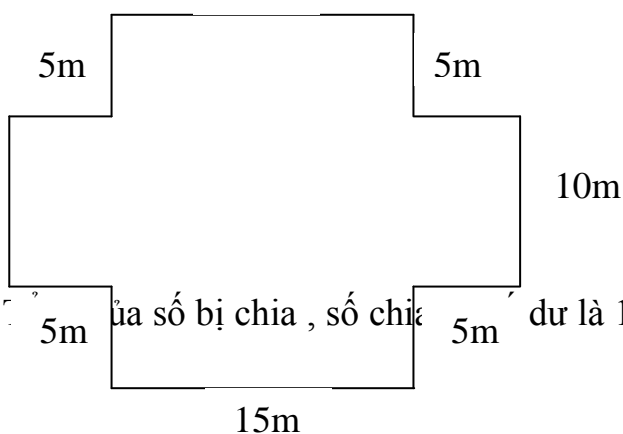
$$\frac{3}{14} \times 1\frac{1}{6} + 3\frac{1}{5} \times 2\frac{1}{4} - 3\frac{2}{5}$$

$$3\frac{3}{5} \times 7 + 3\frac{3}{5} \times 4 - 3\frac{3}{5}$$

2. Một hình tròn có chu vi là 21,98 cm . Tính diện tích của hình tròn đó.

3. Một hình thang có diện tích là 576cm^2 , chiều cao là 16cm. Tính độ dài cạnh đáy nhỏ biết cạnh đáy lớn hơn cạnh đáy nhỏ là 12cm.

4. Tính diện tích khu đất có kích thước như hình vẽ bên



5*. Một phép chia có thương là 8 và số dư là 5 . Tìm số chia và số bị chia . (không bắt buộc)

Lưu ý : Từ bài 2 đến bài 5 các con làm ra vở .

(Phiếu ôn tập trong đợt nghỉ phòng chống dịch Covid-19)

A. KHOANH ĐÁP ÁN :

1.Số ?

47,7 tạ =kg

4,5 cm² =m²

5, 6dm² =m²

45,8 kg =tạ

45,6 ha =km²

4,7 dam² =ha

2.Điền dấu (> , < , =) thích hợp vào chỗ chấm:

2 tấn 19 kg 2,19 tấn

45,3 m45,30dm

0,235 km²235 ha

$3\frac{4}{10}$ $3\frac{2}{5}$

3.Một cửa hàng định giá bán một chiếc túi là 120000 đồng. Nhân dịp khai giảng năm học mới, cửa hàng hạ giá 12,5%. Hỏi sau khi giảm giá 12,5%, giá của chiếc túi là bao nhiêu tiền ?

- A.100000 đồng B.102000 đồng C.105000 đồng D.1100000 đồng

4.Lớp 5A có 45 học sinh, trong đó có 18 học sinh nam. Hỏi số học sinh nữ bằng bao nhiêu phần trăm số học sinh nam?

- A. 1,2% B. 120% C.1,5% D.150%

5.Một đội công nhân 60 người dự định hoàn thành một công việc trong 24 ngày. Nhưng do có một số người đến thêm nên đội công nhân đã hoàn thành công việc trong 18 ngày. Tính số người đến thêm.Số người đến thêm là: người.

6.Một khu đất hình chữ nhật có nửa chu vi là 63,7m. Chiều dài khu đất hơn chiều rộng là 23,7m. Hỏi diện tích khu đất đó là bao nhiêu hec ta?

- A. 0,874 B. 874 C. 0,0874 D. 8,74

7.Trong vườn nhà bác Cường có 500 cây ăn quả gồm hai loại cam và bưởi, trong đó có 49,4% là bưởi. Hỏi có bao nhiêu cây cam?

- A. 263 B. 253 C. 363 D.353

8.Một phép chia có thương là 4 và số dư là 5. Tổng của số bị chia, số chia và số dư là 70. Tìm số bị chia và số chia ?

- A. 57 và 13 B. 53 và 12 C. 56 và 14 D.55 và 15

9. Hai số thập phân có hiệu là 1,5 . Biết tổng hai số là 10,5 . Tính tỉ số phần trăm số bé với số lớn ?

- A.75% B.80% C.85% D.90%

Viết vào chỗ chấm:

10.Bánh xe ô tô có bán kính là 0,375 m . Khi ô tô đó đi được quãng đường dài 23,55 km thì bánh xe đó lăn được số vòng là :

11.Bánh xe đạp có bán kính là 0,325 m . Khi xe đạp đó đi được quãng đường dài 408,2 m thì bánh xe đó lăn được số vòng là :

12. Một cửa hàng ngày đầu bán được 12,3 tạ gạo. Như vậy ngày đầu bán hơn ngày thứ hai là 0,5 tạ gạo nhưng bán kém ngày thứ ba là 2,3 tạ gạo. Vậy trung bình mỗi ngày cửa hàng lương thực đó bán đượctấn gạo.

B. PHẦN TỰ LUẬN

1. Tìm y

$$\left(\frac{5}{7} - y\right) \times \frac{14}{5} = \frac{7}{10} + \frac{1}{2}$$

$$y - 5\frac{1}{4} : 1\frac{1}{2} = 6\frac{2}{3}$$

.....

.....

.....

.....

.....

.....

.....

.....

.....

.....

.....

.....

.....

2. Tính giá trị của biểu thức:

$$\left(1\frac{1}{2} + 2\frac{3}{4}\right) \times 4\frac{3}{5}$$

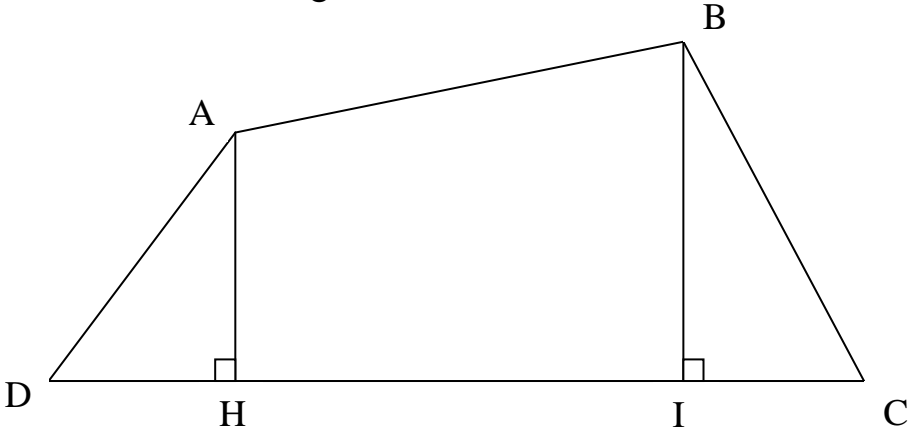
$$\frac{15}{39} \times \left(7\frac{4}{5} \times 1\frac{2}{3} + 8\frac{1}{3} \times \frac{78}{10}\right)$$

3. Một trại chăn nuôi có 225 con bò chiếm 37,5% tổng số trâu và bò. Hỏi trại chăn nuôi đó có bao nhiêu con trâu?

4. Một mảnh đất hình thang có đáy bé 30m, đáy lớn bằng $\frac{5}{3}$ đáy bé. Chiều cao bằng độ dài đáy bé.

- a. Tính diện tích của mảnh đất đó.
- b. Người ta sử dụng 32% diện tích để trồng ngô, 27% diện tích để trồng khoai. Diện tích còn lại để trồng đỗ. Tính diện tích trồng ngô, diện tích trồng khoai, diện tích trồng đỗ.

5. Một mảnh đất có độ dài lần lượt là : AH = 25m ; BI = 35 m ; DH = 20m ; HI = 40m ; IC = 15m . Hỏi diện tích khu đất đó bằng bao nhiêu héc ta ?



6*. Một phép chia có thương là 5 và dư 1. Tìm số bị chia, biết tổng của số bị chia, số chia và số dư là 2012. (không bắt buộc)

Lưu ý : Từ bài 2 đến bài 6 các con làm ra vở

(Phiếu ôn tập trong đợt nghỉ phòng chống dịch Covid-19)

HOA ĐỎ

Đất nước ta xanh tươi bốn mùa, có hoa quả quanh năm. Nếu quả là phần ngon nhất thì hoa là phần đẹp nhất của cây. Chỉ nói riêng màu đỏ cũng có bao nhiêu thứ hoa đẹp

Đỏ tía là hoa chuối. Đỏ tươi là hoa hồng, hoa gạo. Màu đỏ của hoa hồng nhung có quanh năm, ai mà chẳng thích. Hoa mặt trời có nhiều loại, loại cánh đơn màu đỏ cờ, cánh sen, loại cánh kép màu hồng và có màu đỏ rực như tiết.

Mùa hè hoa mào gà đỏ đến chói mắt. Hoa lựu như những đốm lửa lập loè về mùa hè. Mùa thu hoa lộc vùng như những tràng pháo đỏ nhỏ treo khá kín đáo trên cành lá nhiều tầng, phải nhìn thấy thắm đỏ dưới gốc mới biết trên cành hoa đang nở rộ.

Đương nhiên mùa xuân là mùa hoa đẹp. Thược dược to bằng cái đĩa. Thu hải đường như những chùm hoa mỏng, nhìn mà muốn ăn. Hải đường lại như những ngọn lửa nền loé lên từ nách lá. Cây thu hải đường trồng trong chậu còn cây hải đường lại to như cây bưởi. Màu đỏ của hoa đỗ quyên làm ta tưởng như cây không biết mọc lá, cây không có lá bao giờ. Tết đến hoa đào nở đỏ thắm. Nó cũng là mùa xuân đấy.

Sau tết những cây gạo, rồi sau đó là những cây hồng, sau đó nhiều ngày mới đến lượt cây xoan tây thi nhau nở đỏ, xem ai rực rỡ hơn. Cả cây gạo và cây hồng khi ra hoa đều không có lá, trông xa tưởng như cây đào ngày tết đã vụt lớn lên, trở thành khổng lồ để kéo dài mùa xuân ra. Hoa gạo, hoa hồng cứ mọc lên sang chói ở đầu làng ven núi hoặc ngay cả trong thị xã, thành phố.

Ai mà chẳng yêu hoa. Còn nhiều thứ hoa màu đỏ nữa, với nhiều sắc thái đậm nhạt khác nhau, có hoa thơm, có hoa không thơm nhưng đều làm cho đất nước và cuộc sống của chúng ta thêm đẹp hơn.

1. Trong đoạn văn 1 và 2, tác giả đã dùng những từ ngữ chỉ màu đỏ nào để tả các loài hoa:

- a. đỏ tía, đỏ tươi, đỏ cờ, đỏ rực
- b. đỏ thắm, đỏ ối, đỏ hồng
- c. đỏ ong, đỏ chót, đỏ mỏng

2. Hoa nào nở vào mùa thu?

- a. hoa thược dược
- b. hoa lựu
- c. hoa lộc vùng

3. Hoa nào gợi cho ta cảm giác ngon lành?

- a. hoa lộc vùng
- b. hoa thu hải đường
- c. hoa hải đường

4. Cây gạo và cây hồng được so sánh với cái gì?

- a. những cái đèn lồng
- b. cây đào ngày tết
- c. ngọn lửa hồng tươi

5. Bài văn trên giới thiệu về điều gì?

- a. Những loài hoa nở vào mùa xuân
- b. Các loài hoa màu đỏ trên đất nước ta
- c. Vẻ đẹp của cây trái nước ta

6. Đoạn văn tả cảnh mùa hè được sử dụng biện pháp nghệ thuật nào?

- a. so sánh b. nhân hoá c. cả so sánh và nhân hoá

7. Chủ ngữ trong câu “ Màu đỏ của hoa đỗ quyên làm ta tưởng như câu không biết mọc lá, cây không có lá bao giờ” là?

- a. Màu đỏ b. Màu đỏ của hoa đỗ quyên c. hoa đỗ quyên

8. Trong bài có mấy từ đồng nghĩa với từ “ to lớn”

- a. 1 từ là.....
b. 2 từ là
c. 3 từ là

9. Từ sáng chói thuộc loại từ nào?

- a. danh từ b. động từ . tính từ

10. Đặt câu có quan hệ từ “ và”

.....

11. Tìm một câu ghép có trong bài rồi xá định chủ ngữ , vị ngữ trong mỗi vế câu ghép đó.

.....

.....

* Tập làm văn :

Tả người bác bảo vệ hoặc cô lao công ở trường em . (các con viết vở)

(Phiếu ôn tập trong đợt nghỉ phòng chống dịch Covid-19

LÀNG DẠ MÙA ĐÔNG

Mùa đông đã thực sự về rồi.

Mây từ trên cao theo các sườn núi trườn xuống, chốc chốc lại gieo một đợt mưa bụi trên những mái lá chít bạc trắng. Hoa cải hương vàng hoe từng vạt dải ẩn hiện trong sương bên sườn đồi. Con suối lớn ồn ào, quanh co đã thu mình lại, phô những dải sỏi cuộn nhẵn nhụi và sạch sẽ. Không còn phải lội qua suối nữa, dù chỉ một bước chân. Nơi nông dòng, ai đã cẩn thận đặt những phiến đá lớn cách đều từng bước đi, nơi sâu hơn, vầu quay tròn ôm đá thành từng trục cần đón những thân cau già, dẻo dai vững chắc. Trên mặt nước chỉ còn lại những chú nhện chân dài như gọng vó bận rộn và vui vẻ trong công việc thi nhau ngược dòng vượt lên.

Làng Dạ nằm sát chân núi, xanh biếc bóng tre non và lạ chưa, những bóng cau cao vút lơ xô, thân mảnh dẻ và đơn sơ một nét thẳng ngọn xoè những tàu xanh bóng. Mùa đông cái chết lên tới ngọn những hàng coi bên suối. Trên những ngọn coi già nua cổ thụ, những chiếc lá vàng sót lại cuối cùng đang khua lao xao trước khi từ giã thân mẹ đơn sơ. Nhưng những hàng cau Làng Dạ thì bất chấp tất cả sức mạnh tàn bạo của mùa đông, chúng vẫn còn nguyên những tàu lá vắt vẻo mềm mại như cái đuôi én. Trên nền đất rắn lại vì giá lạnh những đợt lá non vẫn đang xoè, vàng nhạt và những cây cau vẫn duyên dáng, đu đưa thân mình, tưởng như chúng sinh ra còn là để trang điểm cho thôn bản làng Dạ thêm vẻ thanh tú nhẹ nhàng

(theo Ma Văn Kháng)

II. Khoanh vào chữ cái trước câu trả lời đúng hoặc làm theo yêu cầu:

1. Tập hợp nào dưới đây đầy đủ các sự vật được tác giả chọn tả:

- Mây, mưa bụi, sườn núi, con suối, các chú nhện, những bóng cau
- Mây, hoa cải hương, con suối lớn, các chú nhện, những bóng cau, những hàng cau.
- Mây, hoa cải hương, con suối lớn, những hàng cau, hàng coi, nền đất, mùa đông.

2. tập hợp nào dưới đây đủ các từ ngữ chỉ màu sắc của cảnh vật trong bài?

- Bạc trắng, vàng hoe, xanh biếc, vàng
- vàng, vàng hoe, vàng nhạt, xanh biếc
- Bạc trắng, vàng hoe, xanh biếc, vàng, vàng nhạt, xanh bóng

3. Bóng tre non xanh biếc và những hàng cau làng Dạ với màu xanh lá bóng trong mùa đông cho biết điều gì?

- Làng Dạ đẹp trù phú, đầy sức sống
- Làng Dạ giàu có, nhiều cây
- Làng Dạ có nhiều cau và cây coi.

4. Ý nghĩa của bài đọc là gì?

- Miêu tả cảnh vật làng Dạ vào mùa đông

- b. Miêu tả sự thay đổi của cảnh vật làng Dạ vào mùa đông
- c. Ngợi ca vẻ đẹp sinh động, đầy sức sống của làng Dạ vào mùa đông.

5. Trong câu nào dưới đây từ “trườn” được dùng với nghĩa gốc?

- a. Những con rắn **trườn** theo bờ bụi rồi qua con đường nhỏ bên bờ suối.
- b. Mây từ trên cao theo các sườn núi **trườn** xuống, chốc chốc lại gieo một đợt mưa bụi trên những mái lá chít bạc trắng.
- c. Nước **trườn** qua khe núi, tràn xuống con đường.

6. “Cẩn thận” có nghĩa là gì?

- a. Có ý thức tránh những gì sơ suất, sai sót, tránh những điều không hay có thể xảy ra.
- b. Thực hiện trong một thời gian lâu hơn bình thường
- c. Thực hiện nghiêm ngặt, không để lộ ra, không sơ hở

7. Trong bài, những con nhện được nhân hoá bằng cách nào?

- a. Dùng những động từ chỉ hoạt động của con người để nói về những con nhện
- b. Dùng những từ ngữ chỉ đặc điểm của con người để nói về những con nhện
- c. Dùng những từ chỉ đặc điểm, tính từ và đại từ chỉ người để nói về những con nhện

8. Từ cổ kính thuộc loại từ nào?

- a. danh từ
- b. động từ
- c. tính từ

9. Dòng nào dưới đây chỉ gồm các từ trái nghĩa với từ bận rộn?

- a. nhàn, nhàn hạ, thanh thoi, thông dong
- b. ung dung, nhàn hạ, lãn bản, rộn rang
- c. thanh thoi, lật đật, vội vàng, thông dong

10. trong câu” Nơi nông dòng, ai đã cẩn thận đặt những phiến đá lớn cách đều từng bước đi, nơi sâu hơn, vầu quay tròn ôm đá thành từng trục cần đón những thân cau già, dẻo dai vững chắc” từ ngữ nào là trạng ngữ?

- a. nơi nông dòng
- b. nơi nông dòng/ nơi sâu hơn
- c. không có trạng ngữ

*Tập làm văn :

Viết mở bài gián tiếp và kết bài mở rộng để tả cảnh đẹp địa phương mà em có dịp tới thăm.
(các con viết vở)

(Phiếu ôn tập trong đợt nghỉ phòng chống dịch Covid-19)

Ba pho tượng

Có một vị tiểu vương gửi biểu hoàng đế lạng giềng ba pho tượng giống hệt nhau và cho biết giá trị của chúng khác nhau. Vị tiểu vương muốn thử các quần thần của hoàng đế thông thái đến đâu.

Nhận được món quà, hoàng đế cho quần thần xem xét nhưng không ai tìm ra sự khác nhau giữa ba pho tượng. Tin đồn về ba pho tượng bí hiểm lan khắp kinh thành. Một chàng thanh niên nhà nghèo nhưng chăm học biết tin, liền nhờ tâu với Hoàng đế cho chàng xem tượng để đoán ra điều bí mật.

Hoàng đế triệu cho chàng vào cung. Chàng quan sát 3 pho tượng từ mọi phía và phát hiện ra rằng tai của pho tượng đều có lỗ thủng. Chàng lấy một cọng rơm luồn vào tai pho tượng thứ nhất thì thấy đầu cọng rơm nhô ra ở miệng tượng. Khi làm như vậy với pho tượng thứ hai thì đầu cọng rơm nhô ra ở lỗ tai bên kia, còn pho tượng thứ ba thì đầu cọng rơm cứ chui mãi vào trong bụng tượng. Chàng trai bèn nói với hoàng đế:

Tâu hoàng đế, những pho tượng này cũng có những đặc điểm như người. Pho tượng thứ nhất giống loại người nghe thấy chuyện gì đều đem kể cho người khác. Loại người này không thể tin cậy được. Giá trị của pho tượng này rất thấp. Pho tượng thứ 2 giống loại người nghe tai này lọt qua tai kia, chẳng hiểu được gì. Đó là loại người đầu óc rộng tuếch. Còn pho tượng thứ ba giống loại người nghe được điều gì đều giữ lại trong lòng để suy ngẫm. Đây chính là pho tượng có giá trị nhất.

Hoàng đế nghe vậy rất hài lòng, bèn ra lệnh cho cận thần viết thư trả lời vị tiểu vương kia. Còn chàng trai thông minh thì được ban tặng nhiều vàng bạc và đưa về kinh thành để nuôi dạy thành người tài.

TRUYỆN CỔ AN ĐỘ

Theo bản dịch của Nguyễn Chi Mai

Khoanh vào chữ cái trước ý trả lời đúng cho từng câu hỏi dưới đây

- Vị tiểu vương gửi biểu hoàng đế lạng giềng món quà gì?
 - Ba pho tượng có hình thức và giá trị khác nhau
 - Ba pho tượng có hình thức và giá trị giống nhau
 - Ba pho tượng có hình thức khác nhau và giá trị giống nhau
 - Ba pho tượng có hình thức giống nhau và giá trị khác nhau
- Chàng trai phát hiện ra bí mật của ba pho tượng bằng cách nào?
 - Quan sát kĩ từng pho tượng, thấy tai của 3 pho tượng đều có lỗ thủng
 - Quan sát kĩ một pho tượng, lấy cọng rơm luồn vào tai của pho tượng
 - Quan sát kĩ từng pho tượng, đoán ngay ra đặc điểm của từng pho tượng
 - Quan sát kĩ ba pho tượng, luồn cọng rơm vào tai từng tượng để suy đoán
- Vì sao chàng trai đánh giá pho tượng thứ 1 có giá trị thấp?
 - Vì tượng giống loại người nghe điều gì cũng không hiểu được

- b. Vì tượng giống loại người nghe điều gì cũng kể cho người khác
- c. Vì tượng giống loại người nghe điều gì cũng giữ lại trong lòng
- d. Vì tượng giống loại người nghe điều này lại nói thành điều khác

4. Dòng nào dưới đây nêu đúng và đủ những phẩm chất của chàng trai/

- a. Quan sát giỏi, hiểu biết rộng, tài suy đoán
- b. Quan sát giỏi, tài suy đoán, am hiểu về tượng
- c. Quan sát giỏi, tài suy đoán, khéo nói
- d. Quan sát giỏi, am hiểu về tượng, khéo nói

5. Từ nào dưới đây đồng nghĩa với từ bí mật?

- a. bí quyết
- b. bí ẩn
- c. bí thư
- d. bí danh

6. Dòng nào dưới đây gồm 2 từ trái nghĩa với từ thông minh?

- a. tối dạ, chậm chạp
- b. ngu ngốc, chậm chạp
- c. đần độn, tối dạ
- d. tối dạ, vụng về

7. Dãy câu nào dưới đây có các từ in nghiêng là từ đồng âm

- a. *Tai* của pho tượng đều có 3 lỗ thủng/ **Tai** của chiếc ấm pha trà rất đẹp
- b. Cọng rom chui mãi vào *bụng* tượng/ Nước ngập đến *bụng* chân
- c. Đó là loại người có cái *đầu* rộng tuếch/ Bạn Minh ngồi ở *đầu* bàn
- d. Hoàng đế *triệu* chàng vào cung/ Hàng *triệu* người nô nức đi trải hội.

8. Câu nào dưới đây có các từ in nghiêng mang nghĩa chuyển?

- a. Cọng rom nhô ra ở *miệng* tượng
- b. Hoa nở ngay trên *miệng* hổ bom
- c. *Miệng* nói tay làm
- d. *Miệng* cười như thể hoa ngâu

9. Câu nào dưới đây có dùng quan hệ từ?

- a. vị tiểu vương gửi biểu hoàng đế láng giềng ba pho tượng
- b. Vị tiểu vương muốn thử các quần thần của hoàng đế
- c. Hoàng đế cho triệu chàng trai vào cung
- d. Chàng trai thông minh được ban tặng nhiều vàng bạc.

10. Chủ ngữ trong câu: ‘ Giá trị của pho tượng này rất thấp’ là những từ ngữ nào?

- a. giá trị
- b. giá trị của pho tượng
- c. Giá trị của pho tượng này
- d. Giá trị của pho tượng này rất

* Tập làm văn

Tả cây bóng mát ở trường em (các con viết vở)